

نص الاختبار

فتح محمد مجلة علمية فوجد الوضعيات التالية : أساعده على حلها

1/ أجب ب : صواب أو خطأ

العين تمكنا من تمييز الحار من البارد

.....

في العين السليمة تنطبع الصورة وراء الشبكية

.....

العصب البصري ينقل الصورة للدماغ الذي يقوم بتعديلها

.....

العدسة من الأعضاء الواقية للعين

.....

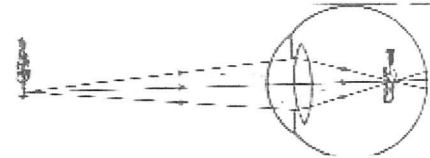
يتغير مسار الضوء عند اصطدامه بالأجسام فينتثر

.....

نستطيع رؤية الأشياء دون توفر الضوء

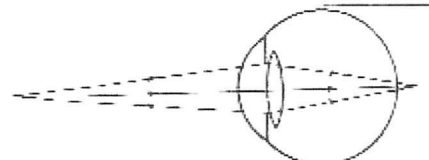
.....

2/ أكمل بالكلمات المناسبة :



عين مصابة ب ويتم تعديل الرؤية ب

مع 2



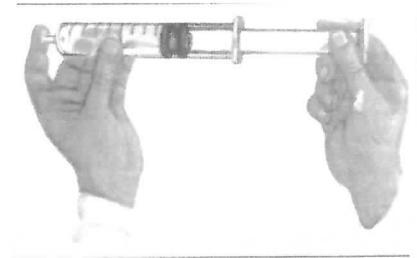

عين مصابة ب ويتم تعديل الرؤية ب

مع 1

2ب/ أعر الجدول التالي :

الأعضاء الداخلية	الأعضاء الخارجية	أعضاء الحماية
.....
.....
.....

/ أكتب خاصية الهواء تحت كل صورة



.....

.....

معيير الامتياز	معايير الحد الأدنى		
	مع 2	مع 1	
مع 3	0	0	(---) انعدام التملك
1,5	2,5	2,5	(+) التملك دون الأدنى
3	5	5	(++) التملك الأدنى
5	7,5	7,5	(+++) التملك الأقصى